

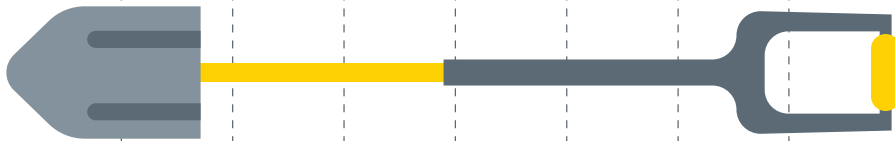
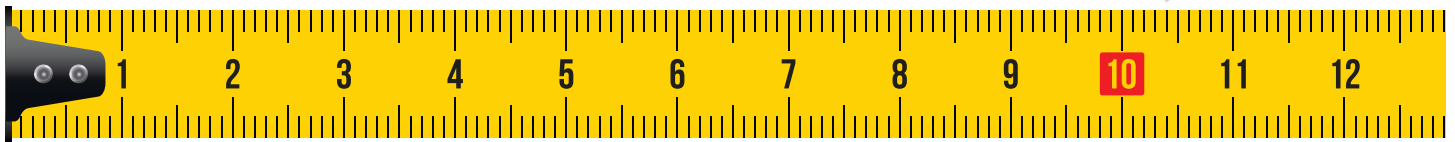


Proyecto de Medición


MATEMÁTICAS: 2do - 3er Grado

Antes de que Walter, la mascota del Proyecto Central 70, comience a trabajar por el día, necesita su ayuda para medir el ancho de cada elemento a continuación.*


*No a escala



#1



#2



#3

#4 Encuentra otros tres artículos por tu casa para medirlos y anota el artículo y su medida aquí. Usa la regla que está arriba si no tienes una en tu casa.

Artículo 1: _____ Ancho: _____

Artículo 2: _____ Ancho: _____

Artículo 3: _____ Ancho: _____

#5 Walter también necesita tu ayuda para sumar las herramientas que sus amigos tienen en sus cinturones de herramientas:

Diego tiene **11 herramientas** en su cinturón de herramientas. Bianca tiene **14 herramientas** en su cinturón de herramientas ¿Cuántas herramientas tienen juntos?.